

Adı :
Soyadı:

2. Sınıf Matematik

Uzamsal İlişkiler-1

SOL



Soldan sağa doğru



Sağdan sola doğru

SAĞ

Aşağıdaki çocukların hangi yöne doğru hareket ettiğini yazınız.



.....



.....



.....



.....



.....



.....

Aşağıdaki görselleri bulunduğu tarafa göre yazınız.



Sağda:.....

Solda:.....



Sağda:.....

Solda:.....



Sağda:.....

Solda:.....




Sağda:.....

Solda:.....



Sağda:.....

Solda:.....



Sağda:.....

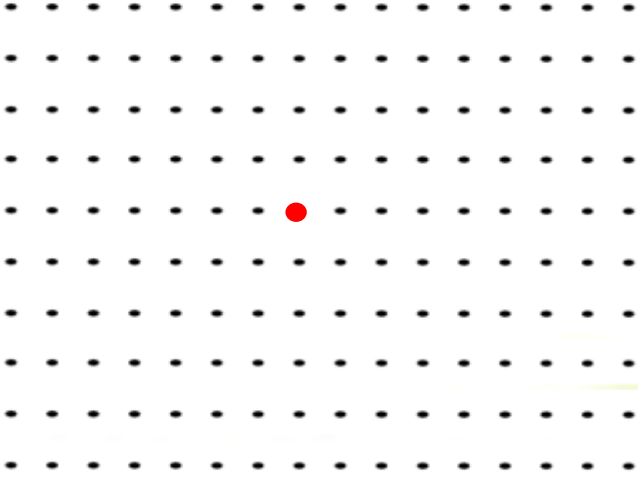
Solda:.....

Adı :
Soyadı:


2. Sınıf Matematik

Uzamsal İlişkiler-1


Verilen yönergeye göre noktayı ilerletiniz.



- 3 nokta sağa ilerleyiniz.
- 4 nokta aşağıya ilerleyiniz.
- 7 nokta sola ilerleyiniz.
- 6 nokta yukarı ilerleyiniz.
- 4 nokta sağa ilerleyiniz.
- 2 nokta aşağıya ilerleyiniz.



- 9 nokta sağa ilerleyiniz.
- 2 nokta aşağıya ilerleyiniz.
- 3 nokta sola ilerleyiniz.
- 7 nokta aşağıya ilerleyiniz.
- 3 nokta sola ilerleyiniz.
- 7 nokta yukarı ilerleyiniz.
- 3 nokta sola ilerleyiniz.
- 2 nokta yukarı çıkınız.



- 7 nokta sola ilerleyiniz.
- 4 nokta yukarıya ilerleyiniz.
- 3 nokta sağa ilerleyiniz.
- 4 nokta yukarıya ilerleyiniz.
- 10 nokta sağa ilerleyiniz.
- 8 nokta aşağıya ilerleyiniz.
- 6 nokta sola ilerleyiniz.